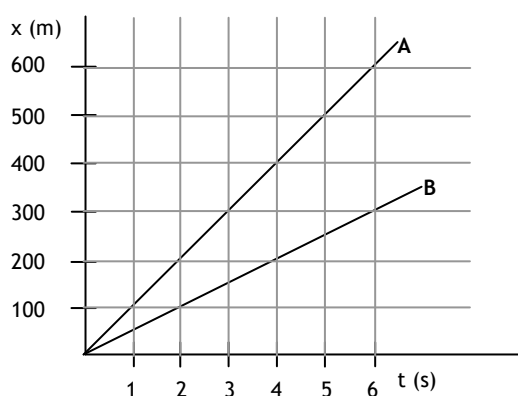
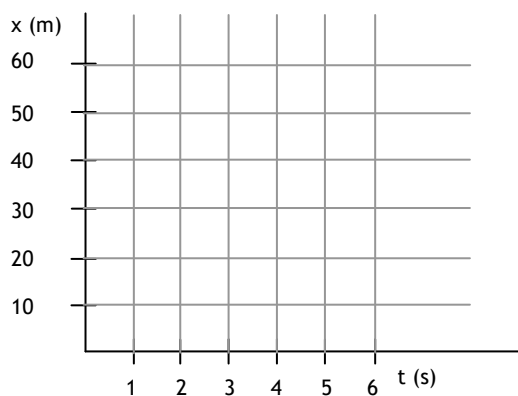


UN EXAMEN CUALQUIERA...

1. En las siguientes gráficas se representan los movimientos de dos automóviles de fórmula 1.
 - a. Razona cuál de los dos va más rápido
 - b. Calcula la velocidad de ambos vehículos en m/s y en km/h
 - c. Representa sobre los mismos ejes el movimiento de un coche que se desplace a 150 m/s y que empezó a moverse tres segundos más tarde que los otros dos



2. Representa en los siguientes ejes el movimiento de la tabla de valores adjunta

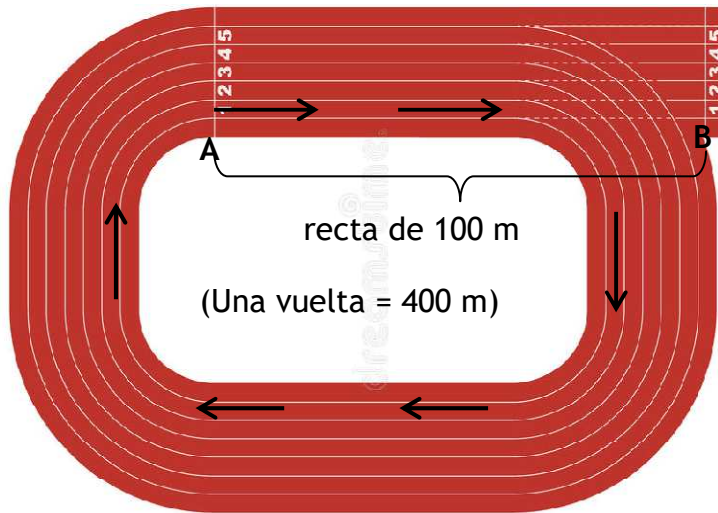


tiempo (s)	posición (m)
0	0
1	2
2	8
3	18
4	32
5	50

Di razonadamente de qué tipo de movimiento se trata

Calcula la velocidad media del objeto móvil en m/s y en km/h

3. Un atleta sale del punto A de la siguiente pista de atletismo en la dirección de la flecha, da una vuelta completa, sigue y se detiene en B



Di sobre el dibujo cuál es la trayectoria y cuánto valen el desplazamiento y el espacio recorrido.